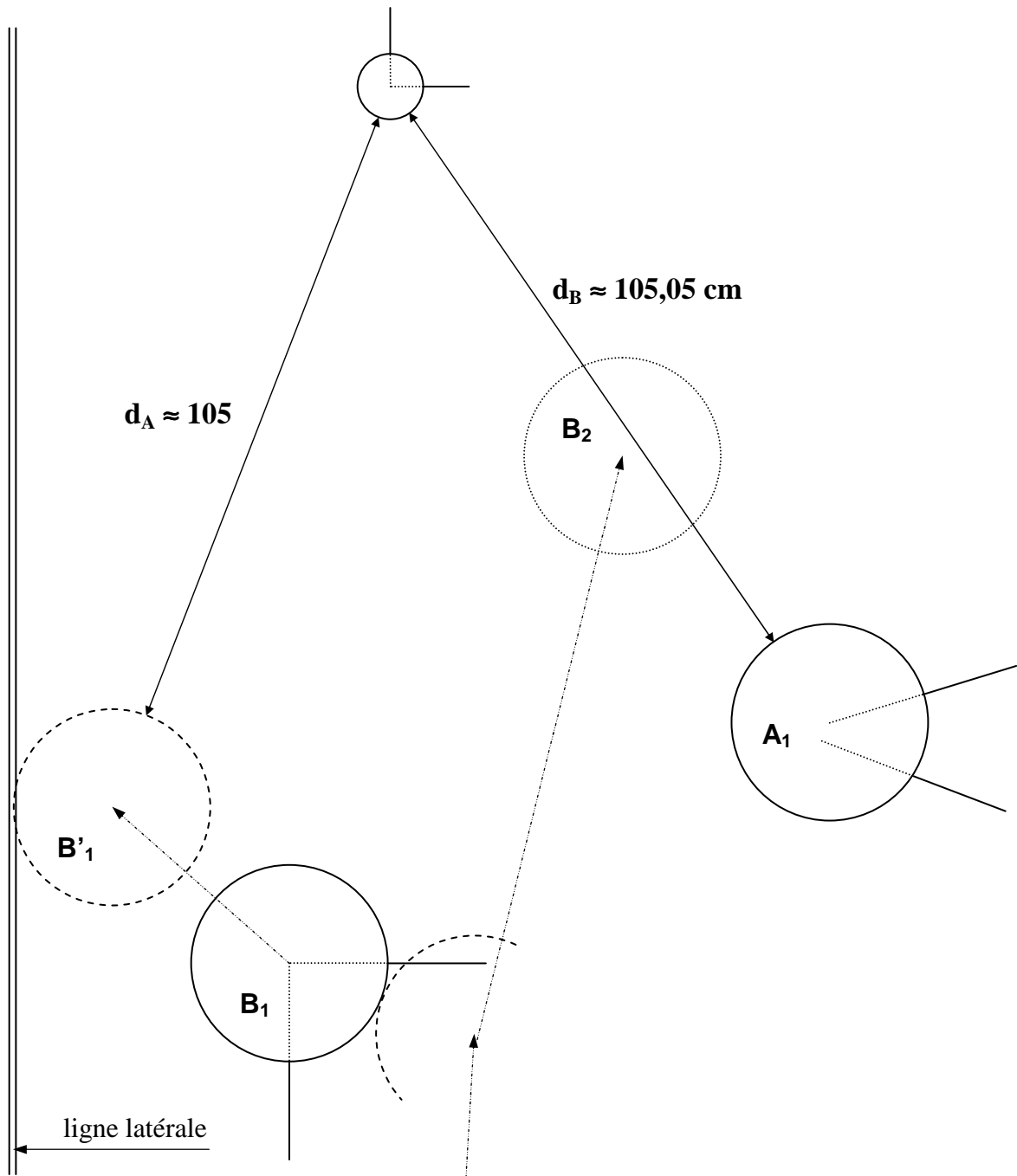


Epreuve pratique N°1 : 1^{ère} partie



Evolution :

La boule pointée B_2 , a projeté B_1 (≈ 15 cm) en B'_1 , ce qui a amené cette dernière presque en position de perte.

Question :

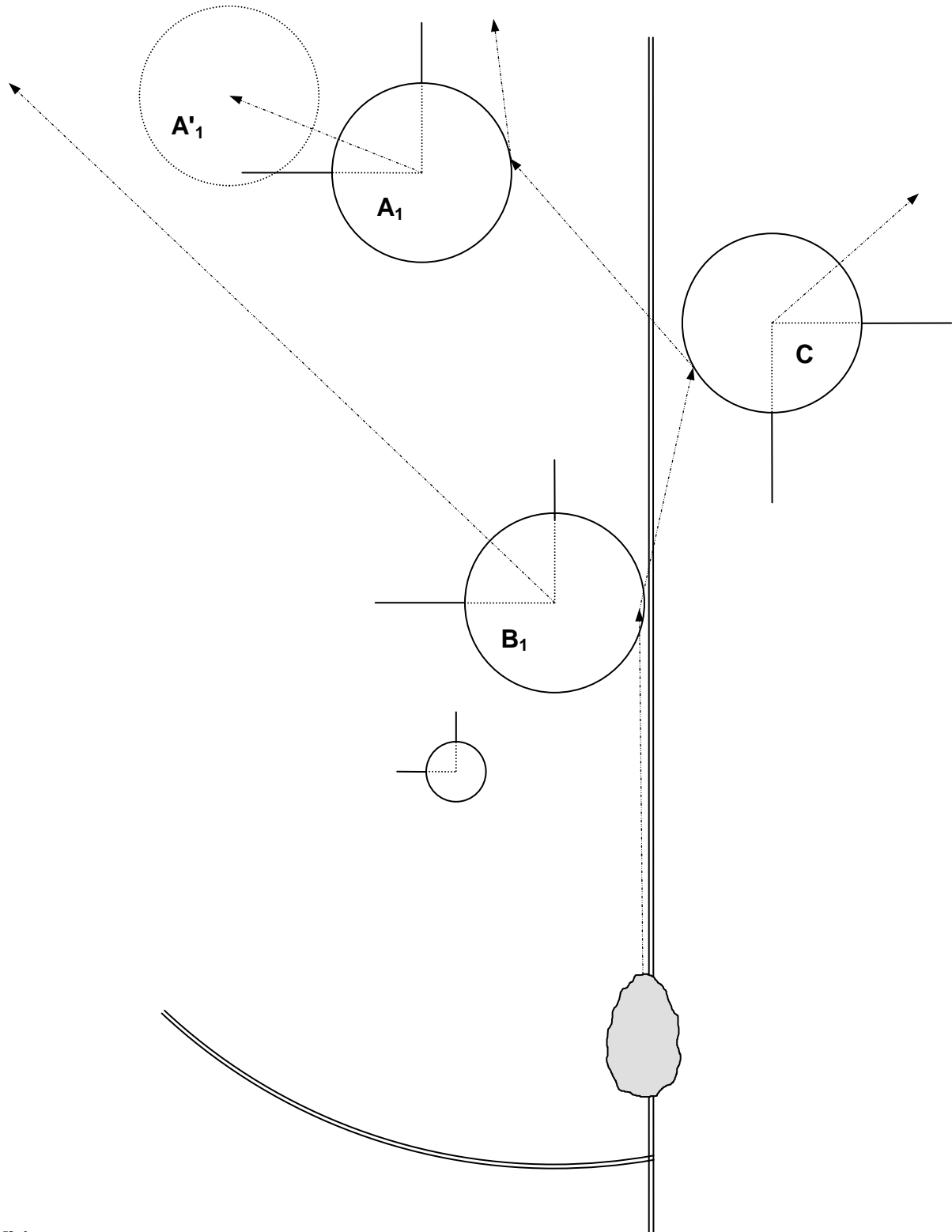
Les deux équipes appellent l'arbitre pour une double intervention :

- Vérifier la validité B'_1 ,
- Indiquer quelle est, des deux boules A_1 et B'_1 , la plus proche du but ?

Remarque (à ne pas dire au candidat) : La boule A_1 est mal marquée et la boule B_2 n'est pas marquée du tout.

Matériel : 1 boule A, 2 boules B, 1 but, 1 baguette

Epreuve pratique N°1 : 2^{ème} partie



Evolution :

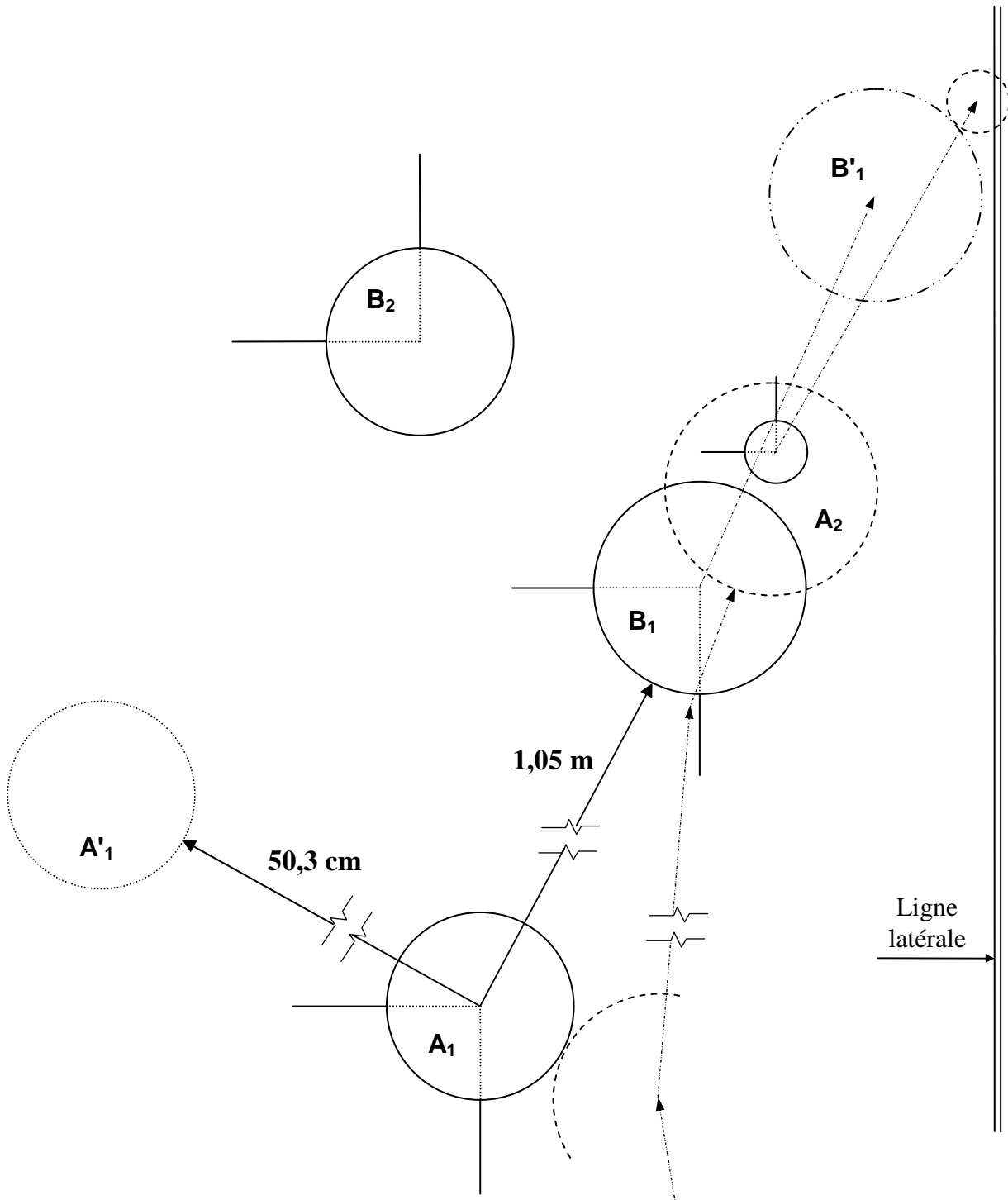
L'équipe **A** a annoncé la boule **B₁**. La boule du tireur tombe sur la ligne latérale, frappe **B₁** qui se perd puis va heurter la boule **C** du cadre limitrophe et enfin déplace légèrement **A₁** avant de sortir du cadre en fond de jeu.

Question :

Les deux équipes ne savent pas ce qu'il faut faire et vous appellent. Que répondez-vous ?

Matériel : 1 boule A, 1 boule B, 1 boule C, 1 but

Epreuve pratique N°2 : 1^{ère} partie



Evolution :

On joue la mène supplémentaire à but non annulable et non perdable.

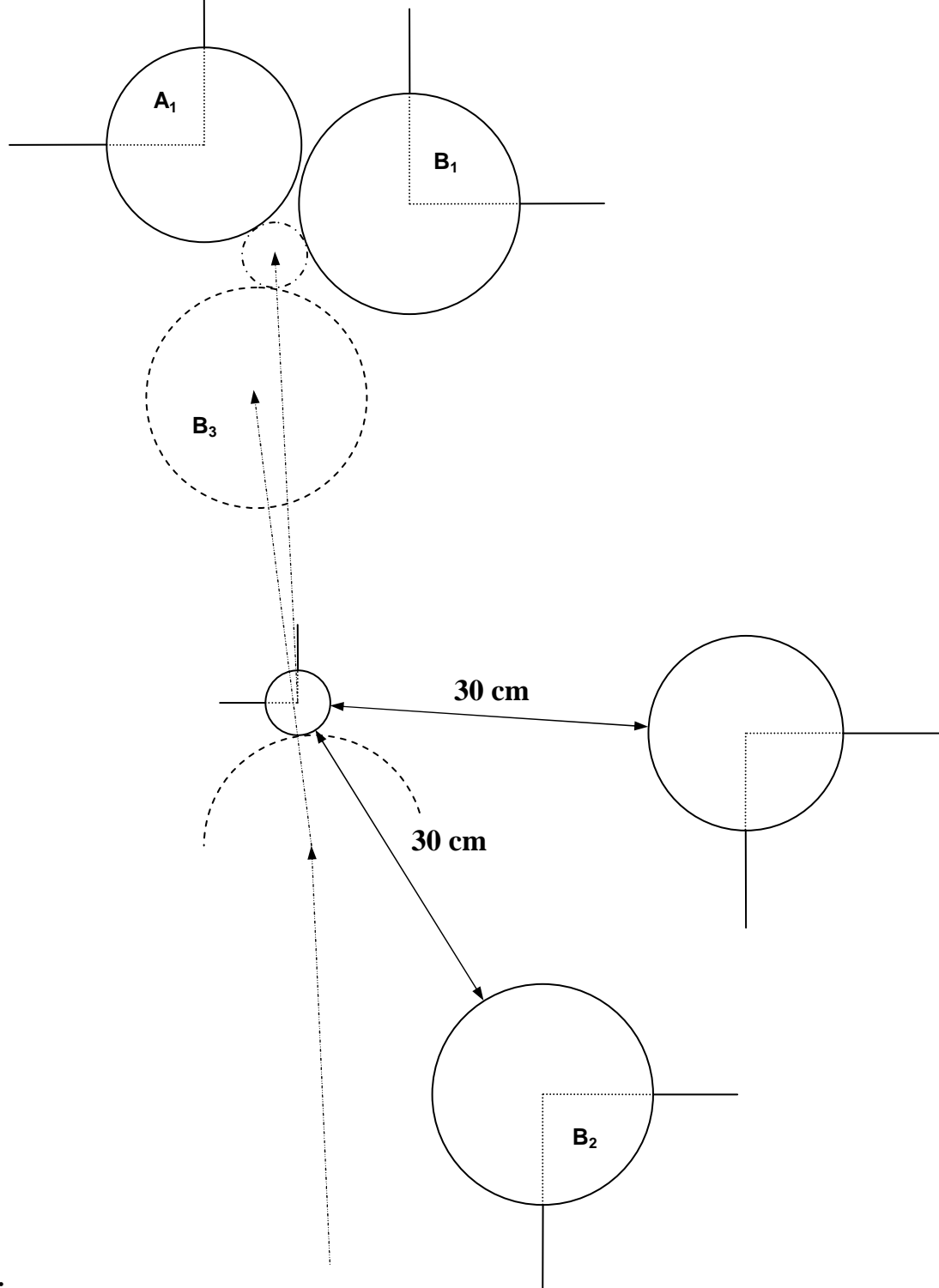
La boule pointée A_2 projette la boule A_1 (ne pas donner la distance au candidat) puis la boule B_1 qui pousse le but en position de perte tout en lui restant collé. La boule A_2 s'immobilise sur l'ancien emplacement du but et sur une partie de celui de la boule B_1 .

Question :

Les équipes, ignorant ce qu'elles doivent faire, appellent l'arbitre. Quelles doivent être ses explications ?

Matériel : 2 boules A, 2 boules B, 1 but, 1 baguette

Epreuve pratique N°2 : 2^{ème} partie



Evolution :

Les équipes ont pointé successivement les boules **A₁**, **B₁**, **A₂** et **B₂**. Ne parvenant à ce mettre d'accord, elles ont appelé l'arbitre qui a déclaré les boules **A₂** et **B₂** à équidistance.

L'équipe B vient de jouer sa boule **B₃** qui a déplacé le but au contact des boules **A₁** et **B₁**. La boule jouée **B₃** reste elle aussi au contact du but.

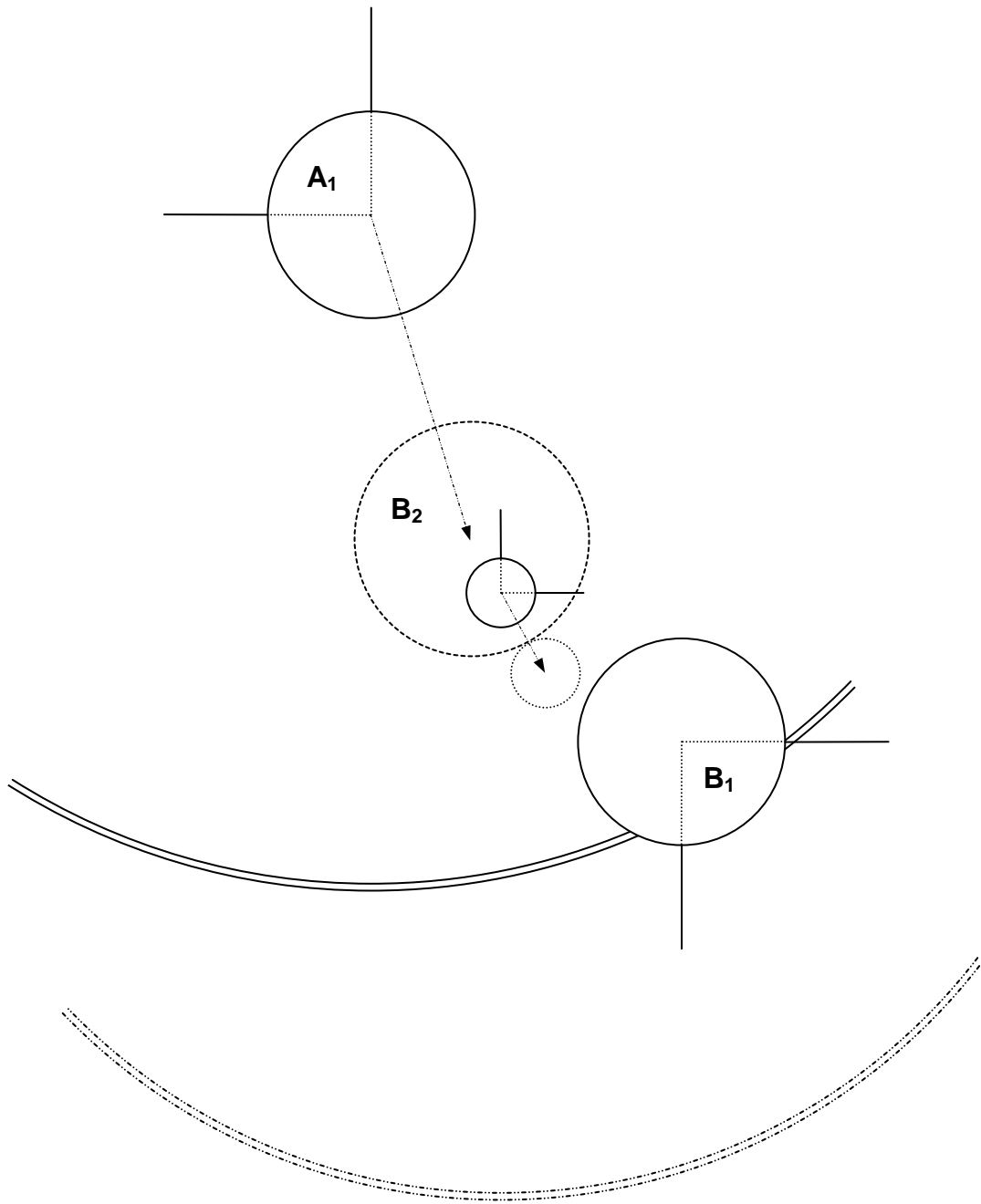
Question :

Les deux équipes, ne sachant que faire, appellent l'arbitre (en lui rappelant son intervention précédente) pour lui demander ce qu'elle peut faire.

Que doit-il dire ?

Matériel : 2 boules A, 3 boules B, 1 but

Epreuve pratique N°2 : 3^{ème} partie



Evolution :

La boule **B₂** du tireur fait un carreau rétro sur **A₁** et vient déplacer le but en prenant une partie de son emplacement.

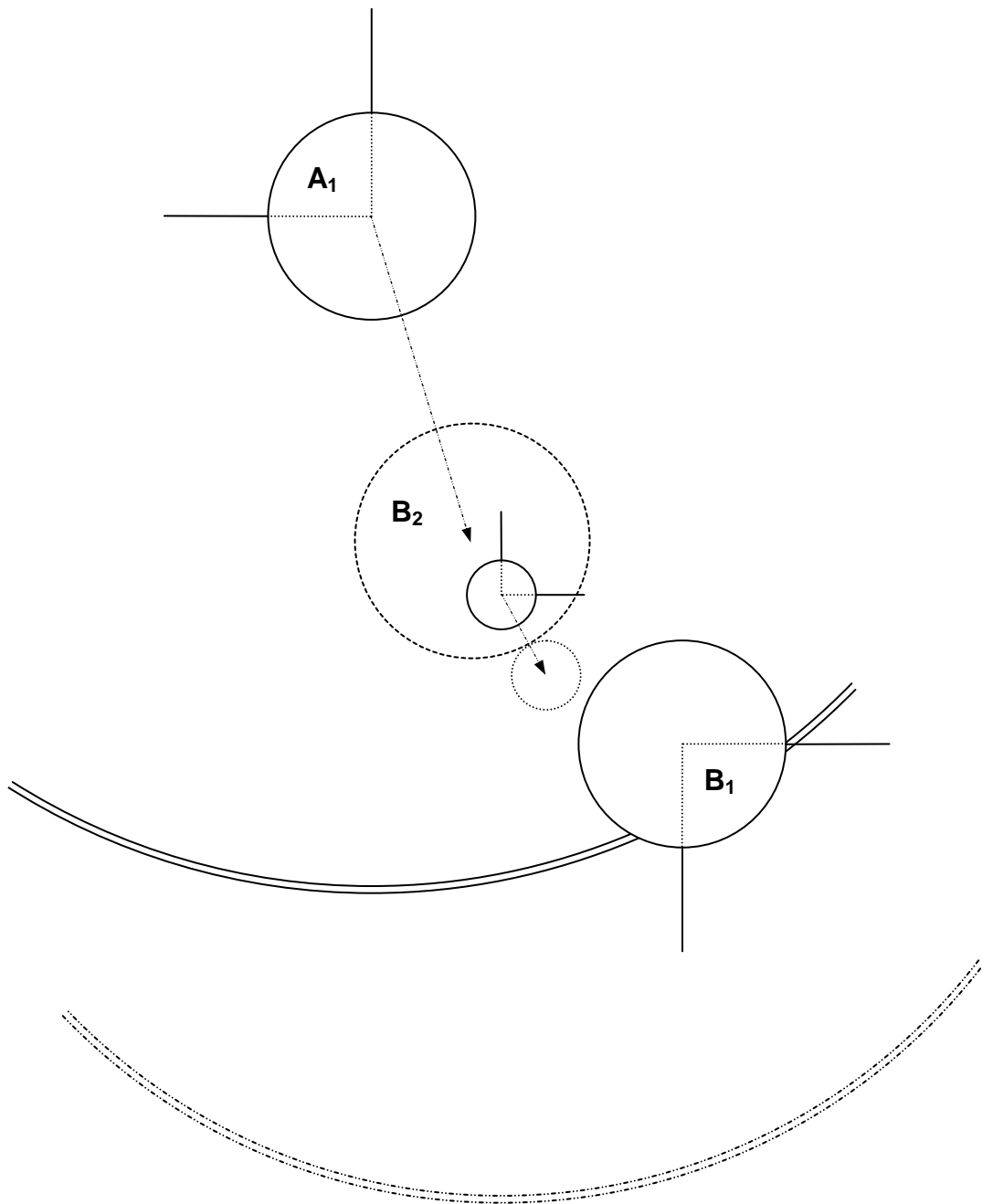
1^{er} cas : but non annoncé,

2^{ème} cas : but annoncé.

Question :

Que doit on faire dans chacun des deux cas ?

Epreuve pratique N°2 : 3^{ème} partie



Evolution :

La boule **B₂** du tireur fait un carreau rétro sur **A₁** et vient déplacer le but en prenant une partie de son emplacement.

1^{er} cas : but non annoncé,

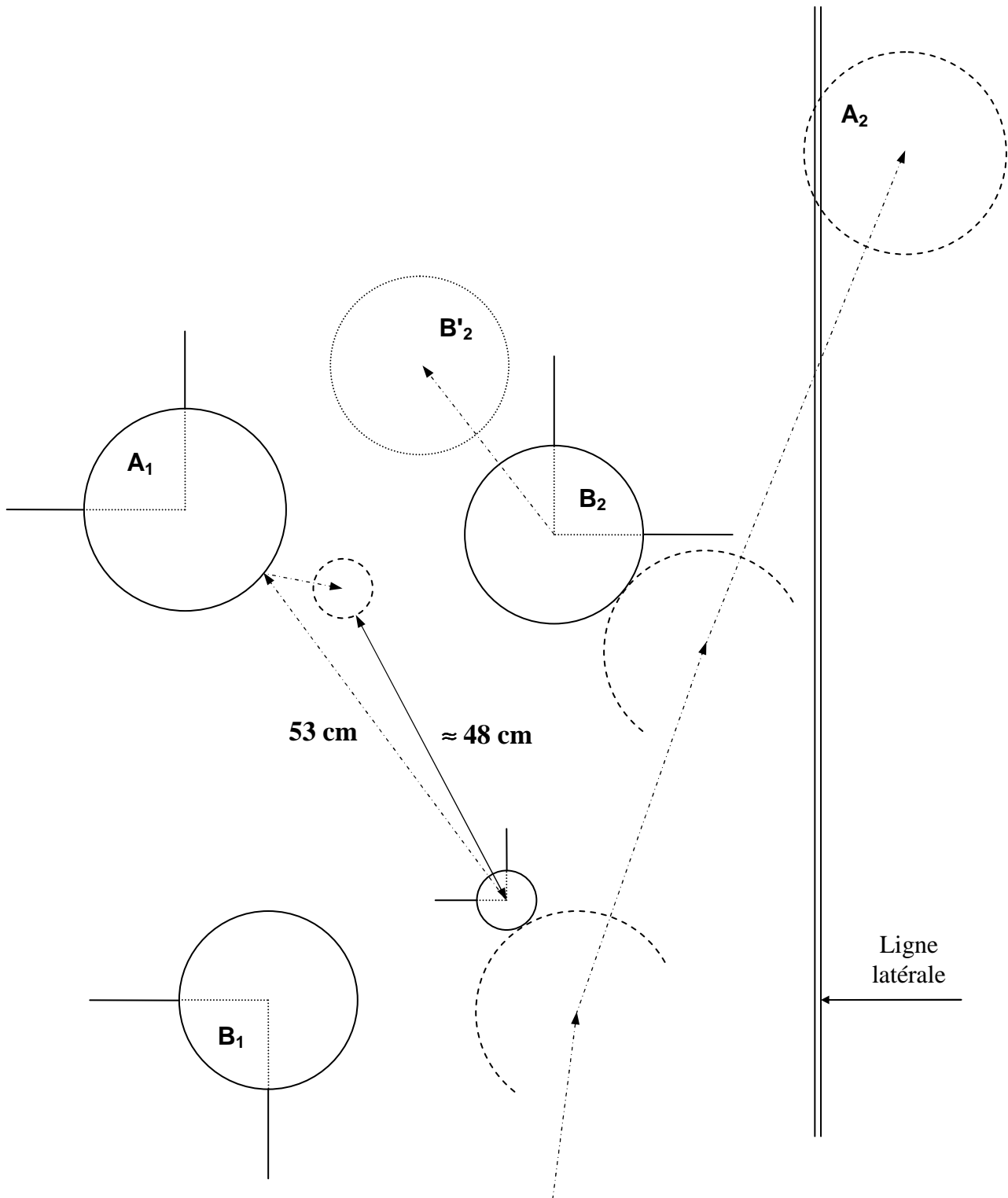
2^{ème} cas : but annoncé.

Question :

Que doit on faire dans chacun des deux cas ?

Matériel : 1 boule A, 2 boules B, 1 but, 1 baguette

Epreuve pratique N°3 : 1^{ère} partie



Evolution :

La boule pointée **A₂** déplace le but, qui va ricocher sur la boule **A₁**, puis la boule **B₂** et s'immobilise en position de perte.

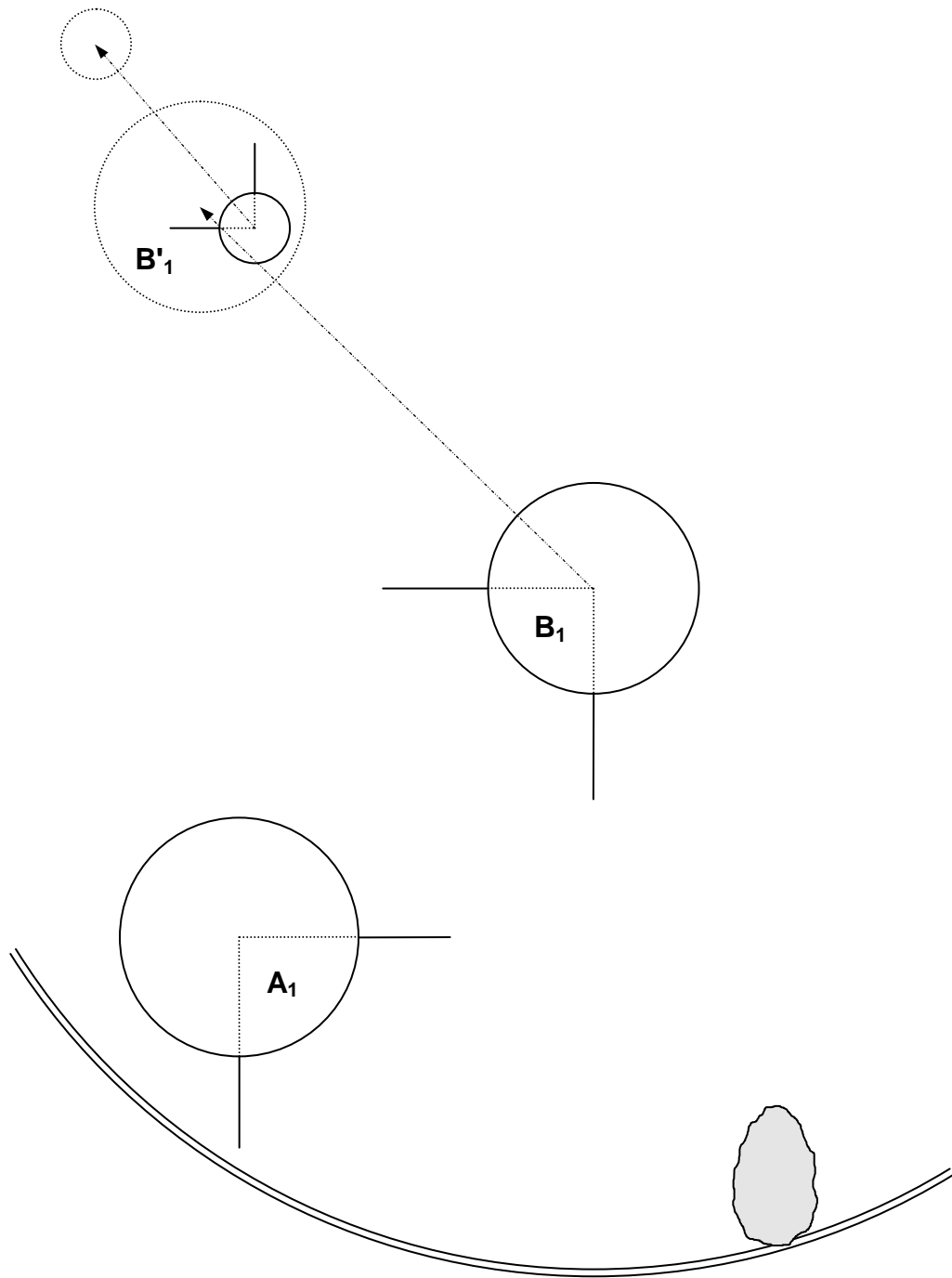
Question :

L'équipe **B** appelle l'arbitre pour lui demander ce qu'elle peut faire. Que doit-il dire ?

Remarque : S'il ne l'a pas évoqué au cours de sa réponse, demander au candidat ce qu'il pense de la projection du but.

Matériel : 2 boules A, 2 boules B, 1 but, 1 baguette

Epreuve pratique N°3 : 2^{ème} partie



Evolution :

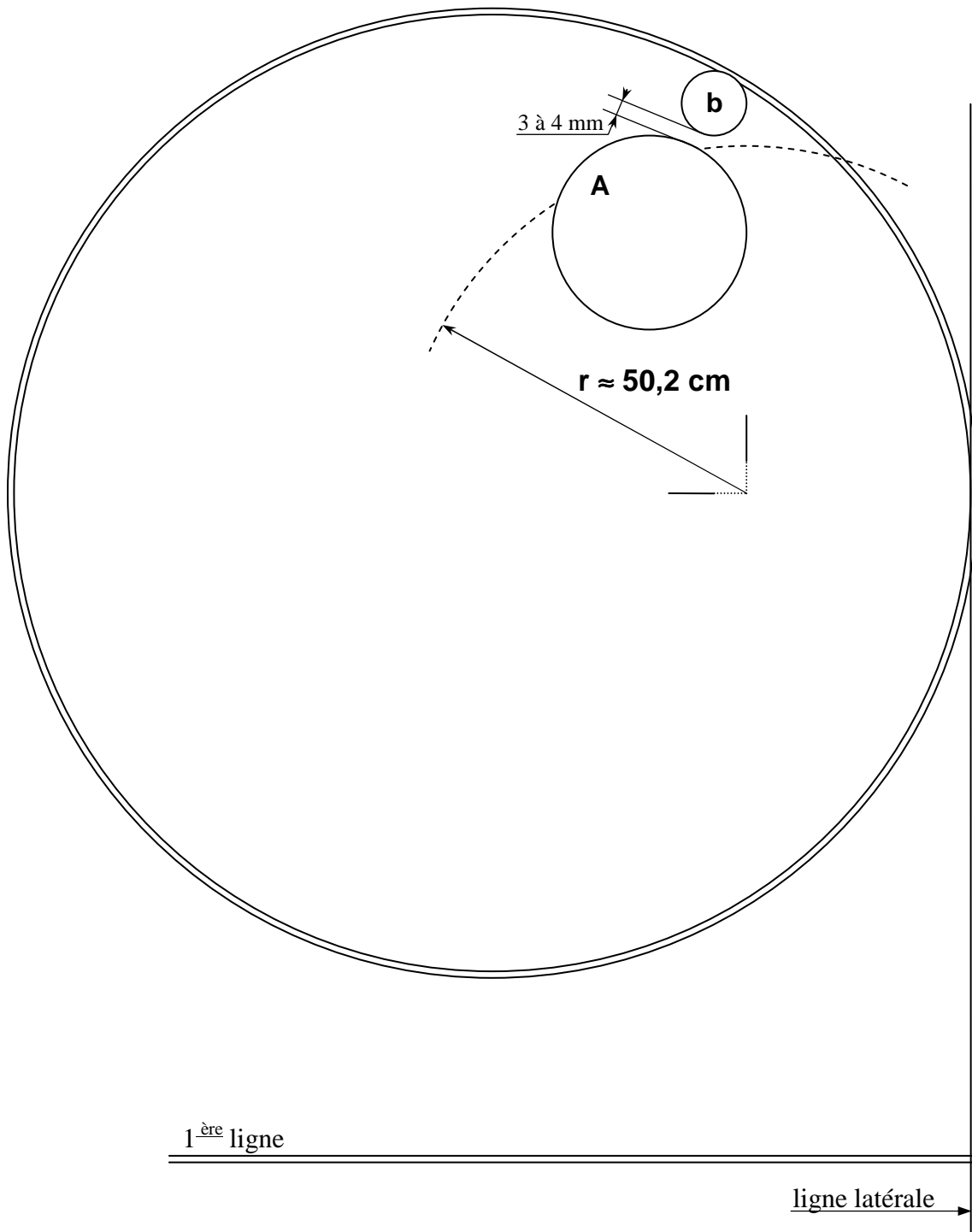
L'équipe **A** tire en annonçant la boule **B₁**. La boule de tir touche (légèrement) la boule **B₁**, laquelle déplace le but et s'immobilise sur son emplacement.

Question :

Les deux équipes ont un doute sur la validité du tir et ne savent pas ce qui doit se passer, que le tir soit régulier ou non. Elles appellent l'arbitre. Que doit-il faire et dire ?

Matériel : 2 boules A, 1 boule B, 1 but, 1 baguette

Epreuve pratique N°3 : 3^{ème} partie



Situation :

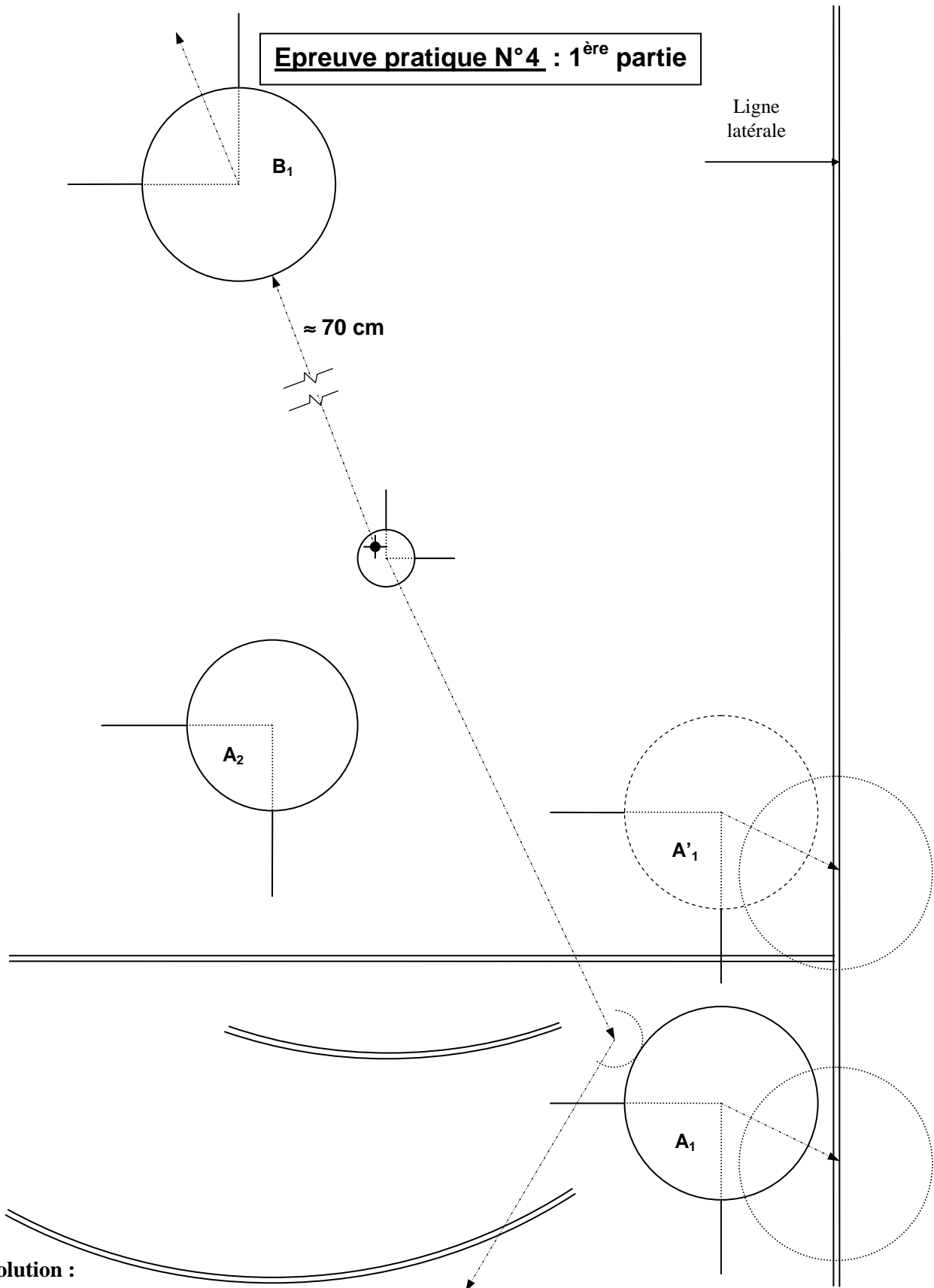
Dans l'épreuve du combiné, la boule pointée **A** déplace le but d'environ 50,2 mm (ne pas donner cette valeur au candidat) et s'immobilise à quelques mm (ne pas donner de valeur au candidat) de celui-ci. Le but se retrouve presque en position de perte.

Question :

Le biberon est-il valable ?

Matériel : 1 traceur, 1 gabarit de précision, 1 boule A, 1 but, 1 baguette

Epreuve pratique N° 4 : 1^{ère} partie



Evolution :

L'équipe **B** a annoncé la boule **A₂**. La boule tirée **B₂** touche directement le but à l'arrière et celui-ci vient heurter violemment la boule **A₁** qui s'était immobilisée, en position peu stable, près de la ligne latérale. Sous l'effet de ce choc, la boule **A₁** tombe dans la ligne. La boule tirée touche ensuite la boule **B₁** et la projette hors du cadre.

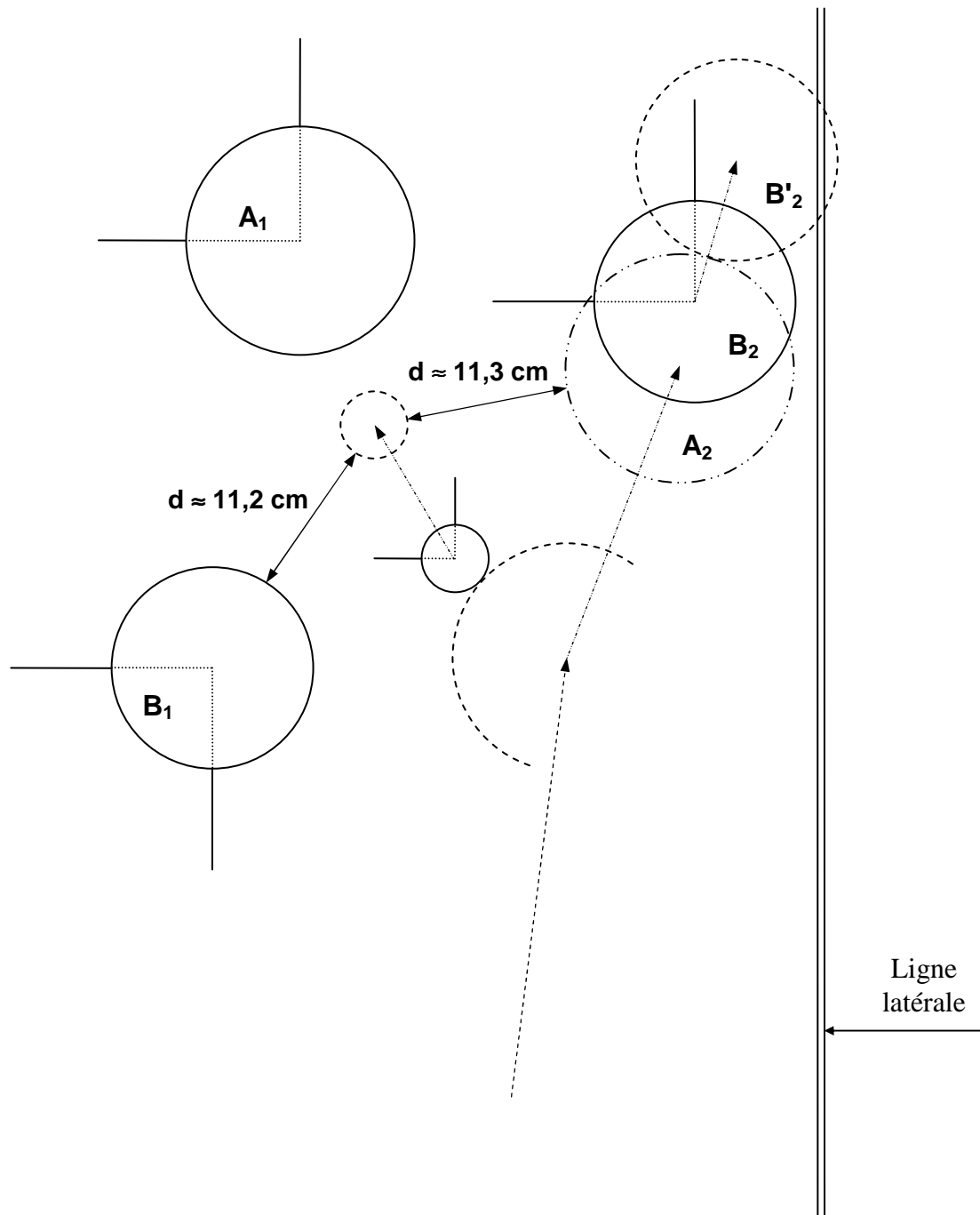
Question :

1er cas : Les deux équipes ne sont pas d'accord et appellent l'arbitre. Que doit-il dire ?

2ème cas : Et si la position initiale de la boule **A₁** avait été **A'₁** ?

Matériel : 2 boules A, 2 boules B, 1 but

Epreuve pratique N° 4 : 2^{ème} partie



Evolution :

La boule pointée **A₂** déplace le but puis vient s'appuyer sur la boule **B₂** qu'elle pousse en position de perte tout en lui restant collée.

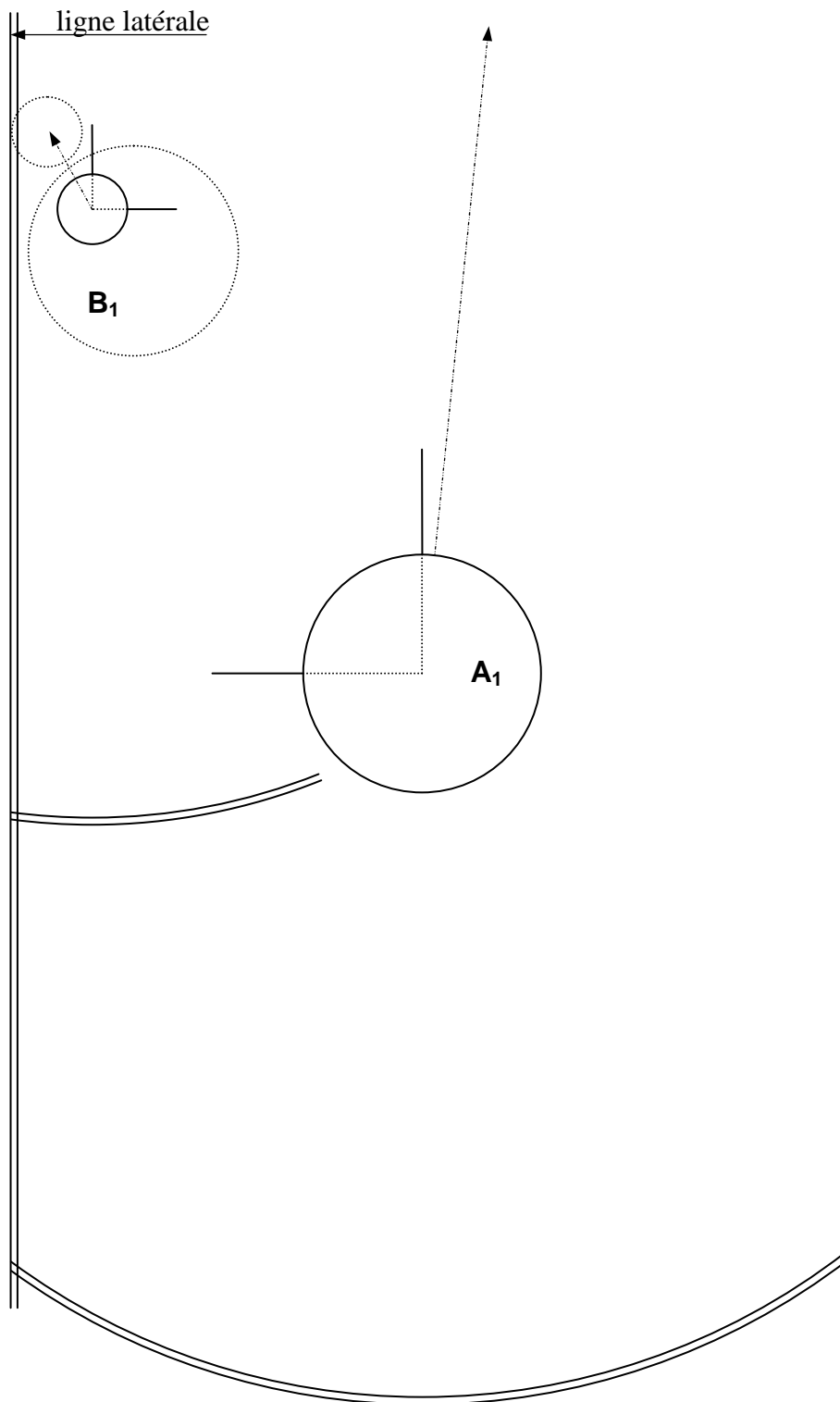
Question :

1^{ère} partie : L'équipe **B** appelle l'arbitre pour lui demander ce qu'elle peut faire. Quelle sera sa réponse ?

2^{ème} partie : Quelle est la meilleure des boules **A₂** et **B₁** ?

Matériel : 2 boules A, 2 boules B, 1 but, 1 baguette

Epreuve pratique N° 4 : 3^{ème} partie



Evolution :

La boule **B₁** du tireur fait un carreau qui va déplacer légèrement le but et s'immobilise sur son emplacement.

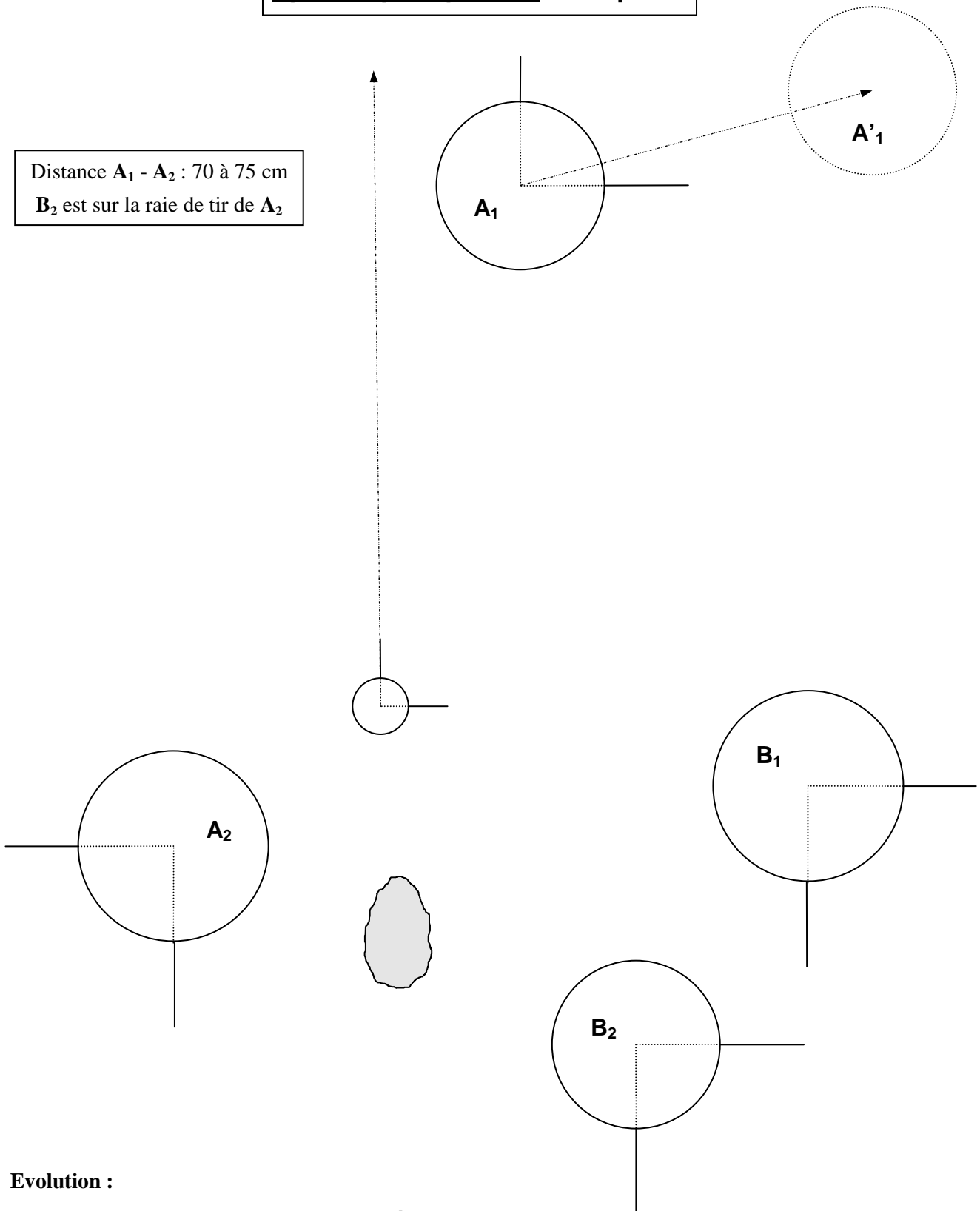
Question :

Que doit-il se passer ?

Matériel : 1 boule A, 1 boule B, 1 but

Epreuve pratique N°5 : 2^{ème} partie

Distance $A_1 - A_2$: 70 à 75 cm
 B_2 est sur la raie de tir de A_2



Evolution :

L'équipe **B** va tirer et annonce la boule A_2 .

Le tireur s'élance et son tir n'est pas droit. Sa boule tombe 20 cm devant le but. Ce dernier, touché, s'arrête devant la 2^{ème} ligne et la boule A_1 est déplacée de 55 cm environ et reste dans le cadre.

La boule de tir s'immobilise dans le rectangle ajouté.

Questions :

- Traçage des raies de tir par le candidat.
- Que doit-il se passer après le tir ?

Matériel : 2 boules A, 2 boules B, 1 but, 1 baguette

