

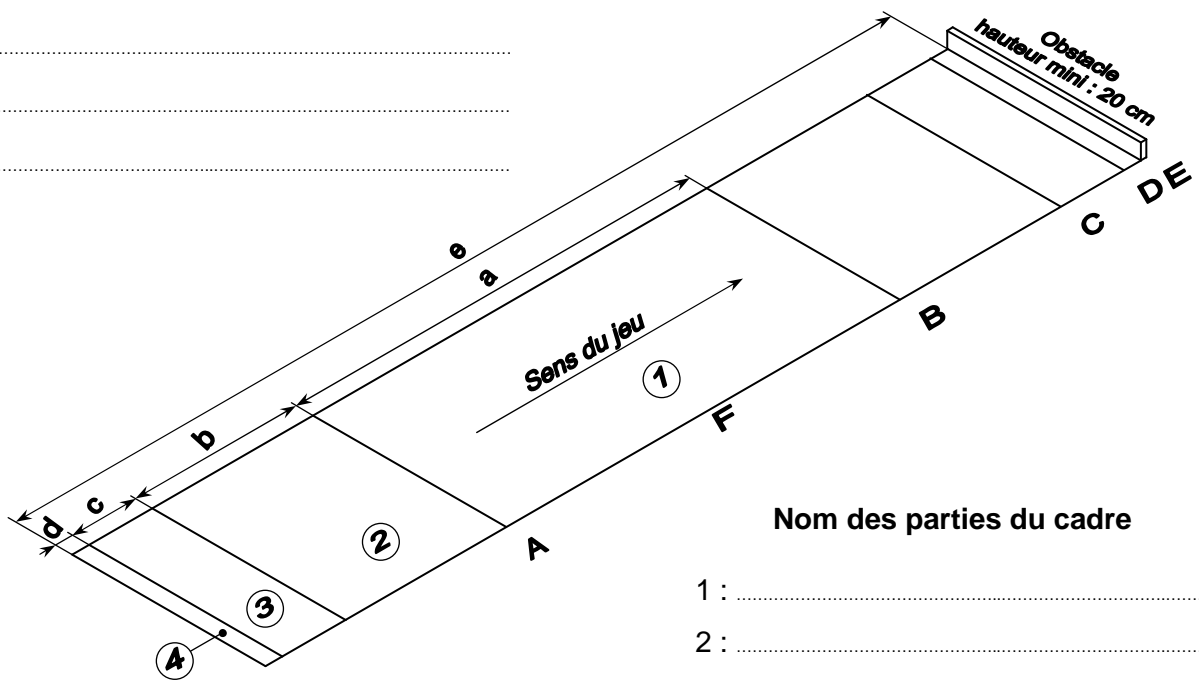
Examen pour le recrutement d'Arbitres Nationaux du 26/11/2006

Question n°1 :

Le cadre : Complétez les légendes du schéma ci-dessous et le tableau des caractéristiques (dimensions) des différents cadres.

Nom des lignes du cadre

- A :
- B :
- C :
- D :
- E :
- F :



Nom des parties du cadre

- 1 :
- 2 :
- 3 :
- 4 :
- 2 + 3 :
- 2 + 3 + 4 :

Dimensions des différents cadres :

←→	a	b	c	d	e
Seniors et under 18
Féminines
Under 14

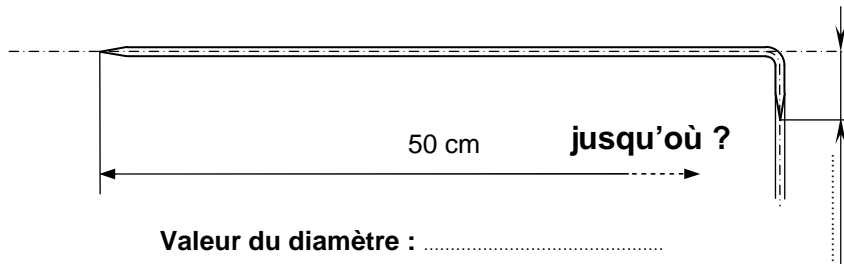
Largeur du cadre :

Examen pour le recrutement d'Arbitres Nationaux du 26/11/2006

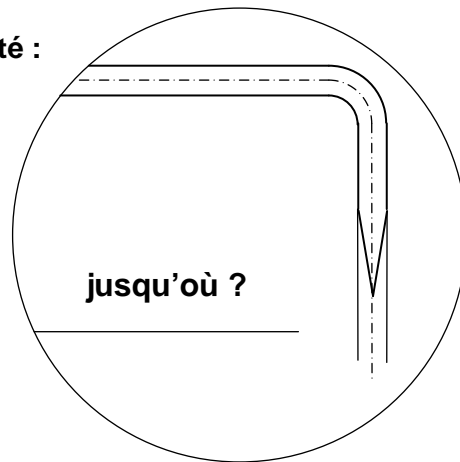
Question n°5 :

La baguette

Compléter la cotation du schéma de la baguette.



Détail de l'extrémité :



Justifier la cote de 50 cm (pourquoi est-elle définie ainsi ?)

.....

.....

.....

.....

.....

A quoi sert la baguette ?

.....

.....

.....

.....

.....

.....

Examen pour le recrutement d'Arbitres Nationaux du 26/11/2006

Question n°6 : Gestion du temps

A - Durée des parties

Quelle est la durée maximum des parties en traditionnel (promotion, propagande, national) ?

Simple :hmin

Double :hmin

Triple :hmin

Quadrette :hmin

Dans quel cas cette durée peut-elle être diminuée ?

.....
.....

Quelle est la durée minimum des parties en traditionnel ?

.....

Est-ce la seule manière de réduire la durée des parties en traditionnel ?

.....
.....
.....

B : Fin du temps

La mène est terminée, il reste 25 secondes de temps réglementaire, que doit-il se passer ?

.....
.....
.....

Une équipe vient de lancer le but et manque son 1er jet ; un des joueur renvoie le but. A cet instant le délégué siffle la fin du temps réglementaire. Que doit-il se passer ?

.....
.....
.....
.....
.....

Examen pour le recrutement d'Arbitres Nationaux du 26/11/2006

Question n°7 : Pénalités pour retard

Dans un concours "Propagande" qui débute à 9 h 00, les parties se déroulent en 11 points et leur durée est fixée à 2 heures.

Pour chacune des situations suivantes, donnez le contenu de votre intervention auprès des équipes.

- I -** Sur le jeu 7, l'équipe A est présente dès 8 h 45 mais l'équipe B arrive avec un léger retard et la partie ne peut débuter qu'à 9 h 08.

.....
.....
.....
.....

Score de départ : **A :** **B :** **Heure fin de partie :** **H**

- II -** Sur le jeu 4, l'équipe D arrive à 9 h 33 et l'équipe C à 9 h 11.

.....
.....
.....
.....
.....

Score de départ : **C :** **D :** **Heure fin de partie :** **H**

- III -** Sur le jeu 15, la deuxième partie opposant les équipes **E** et **F** débute à 11 h 40. L'arrêt pour le déjeuner est sifflé à **12 h 30** et la mène en cours se termine à **12 h 36** sur le score de **10 - 2** en faveur de **F**. La reprise des parties est sifflée à 14 h mais l'équipe **F** est très en retard et le jeu ne peut reprendre qu'à **14 h 36**.

.....
.....
.....
.....
.....
.....

Score de reprise : **E :** **F :** **Heure fin de partie :** **H**

Examen pour le recrutement d'Arbitres Nationaux du 26/11/2006

Question n°9 : Analyse d'un coup

Qu'est ce qui caractérise un coup de boule (point ou tir) en fonction des règlements en vigueur :

a) Un coup régulier

.....
.....
.....
.....

b) Un coup irrégulier

.....
.....
.....
.....

c) Un coup nul

.....
.....
.....
.....

d) Donner 2 exemples de coup nuls

.....
.....
.....
.....
.....
.....
.....

Examen pour le recrutement d'Arbitres Nationaux du 26/11/2006

Question n°10 : La partie traditionnelle

A - Qui doit jouer : Au cours d'une partie traditionnelle, quelle est l'équipe qui doit jouer dans les cas suivants ?

1) L'équipe **A** a perdu sa première boule en pointant et l'équipe **B** n'a pas encore joué de boule.

a : L'équipe **A**.

b : L'équipe **B**.

2) En pointant, l'équipe **B** a mis sa boule à équidistance de la boule **A** qui tenait le point.

a : L'équipe **A**.

b : L'équipe **B**.

3) Après le tir régulier de l'équipe **A**, il ne reste aucune boule dans le cadre mais les deux équipes ont encore, à ce moment là, des boules à jouer.

a : L'équipe **A**.

b : L'équipe **B**.

4) Les boules des équipes **A** et **B** sont en équidistances. L'équipe **B** pointe et reprend le point. L'équipe **A** tire régulièrement la boule.

a : L'équipe **A**.

b : L'équipe **B**.

B - Fautes et sanctions

1) Citez 5 irrégularités graves :

.....
.....
.....
.....
.....

2) Citez 5 sanctions applicables aux joueurs :

.....
.....
.....
.....
.....

3) Citez 3 sanctions applicables aux managers :

.....
.....
.....

Examen pour le recrutement d'Arbitres Nationaux du 26/11/2006

Question n°11 : Affiche

Quelles remarques pouvez-vous formuler à propos de l'affiche de la page suivante ?

Amicale Boule de DARDILLY

Dimanche 26 Novembre 2006

32 D. Propagande
3^{ème} et 4^{ème} divisions
Parties en 1 h 45

Tirage des tours le 22 novembre 18 h 30

- 1^{er} tour : - Tirage au sort le 26 novembre à 10 h
- Début des parties à 13 h 30
- Pénalités à 13 h 45
- 2^{ème} tour :- Tirage au sort le 26 novembre à 14 h

Inscriptions : ● Au siège : 04.78.67.03.99
● Droits : 10 € + 2 €(Jeunes)

Indemnités :

1 ^{ère} partie	:	8 €
2 ^{ème} partie	:	12 €
3 ^{ème} partie	:	20 €
1/2 Finale	:	50 €
Finale	:	100 €